



2-19: Precálculo

Práctica #2 (Feb. 25 al 26 de 2019)

Profesor: MSc. Fausto M. Lagos S.

Estudiante: Aquí va su nombre

En esta práctica se desarrollarán siete planteamientos cada uno con una valoración de un punto. El objetivo de estas práctica es afianzar sus conocimientos antes de la Prueba de Evaluación Continua correspondiente, puede utilizar todo el material bibliográfico a su disposición y también preguntar todo lo que considere necesario. Preste atención al margen derecho donde encontrará premios y bonificaciones adicionales.

Problema 1 Determine **analíticamente** el dominio, rango, paridad y sentido de crecimiento de

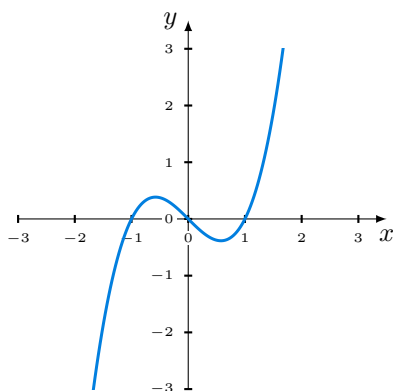
$$f(x) = \frac{2 - \sqrt{x}}{5x}.$$

Utilice la graficadora para verificar su análisis.

Solución

Problema 2 La figura siguiente corresponde a la representación geométrica de la función

$$g(x) = x^3 - x$$



- Sin resolverlo algebraicamente responda ¿ $g(x)$ es una función impar?. Explique.
- Sin utilizar la graficadora. Sobre la gráfica de g dibuje el lugar geométrico de $|g(x)|$.
- ¿Cuál es la paridad de $|g(x)|$? Explique.
- Especule al respecto de si el valor absoluto de toda función impar será siempre una función par.
- Demuestre o refute algebraicamente su especulación en el item d).

Solución

Problema 3 Analice (determinar Dominio, Rango, Paridad y Sentido de crecimiento) la función dada y construya una aproximación gráfica de su lugar geométrico sin utilizar la graficadora.

$$f(x) = \begin{cases} x^2 + 2x, & x \leq -1 \\ x, & -1 < x \leq 1 \\ -1, & x > 1 \end{cases}$$

Verifique con la graficadora que su análisis es correcto.

Solución

Problema 4 Utilice la función

$$f(x) = \frac{1}{x+1}$$

para evaluar

$$\frac{f(a+h) - f(a)}{h}, \quad h \neq 0.$$

Solución

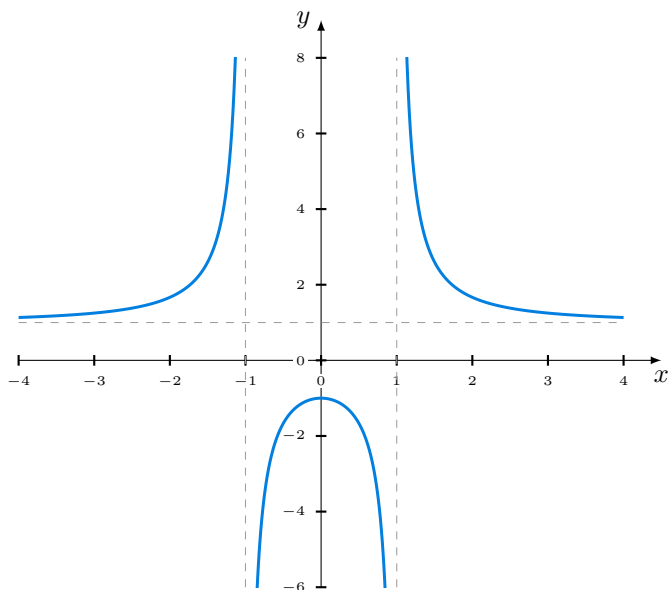
Problema 5 Sin utilizar la graficadora. Analice la función dada y construya una aproximación gráfica de su lugar geométrico

$$f(x) = \sqrt{x^2 - 3x - 10}$$

Solución



Problema 6 A partir de la gráfica de $f(x)$ dada, determine sus características (Dominio, Rango, Paridad y Sentido de Crecimiento) y de acuerdo a lo que conoce de funciones racionales deduzca la expresión analítica para f .



Solución

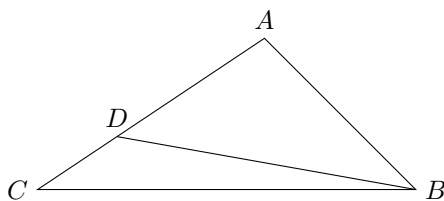
Problema 7 La **función factorial** $f(n) = n!$, cuyo dominio es \mathbb{Z} , se define como el producto de los primeros n enteros positivos, i.e.

$$f(n) = n! = 1 \cdot 2 \cdot 3 \cdots (n - 1) \cdot n.$$

- a) Calcule $f(2)$, $f(3)$, $f(5)$ y $f(7)$.
- b) Muestre que $f(n + 1) = f(n) \cdot (n + 1)$.
- c) Simplifique $\frac{f(n+2)}{f(n)}$.

Solución

Problema 8 In $\triangle ABC$, a point D is on \overline{AC} so that $AB = AD$. $m\angle ABC - m\angle ACB = 30$. Find $m\angle CBD$.



Si resuelve este problema su solución será publicada en la cartelera de matemáticas